


### Aufgabe 1: Halb leer oder halb voll?

Es genügt, die Höhe des Flüssigkeitsstandes zu markieren. In der Abbildung ist er z.B. durch den Buchstaben E des Etiketts gekennzeichnet. Dreht man die Flasche um, so befindet sich die Flüssigkeit dort, wo vorher Luft war. Steht nun der Flüssigkeitsspiegel unterhalb der Markierung, so ist weniger Flüssigkeit als Luft in der Flasche, und damit auch weniger als 0,5 l. Befindet sich dagegen der Flüssigkeitsspiegel nach dem Umdrehen oberhalb der Markierung, so enthält die Flasche mehr als 0,5 l Flüssigkeit.

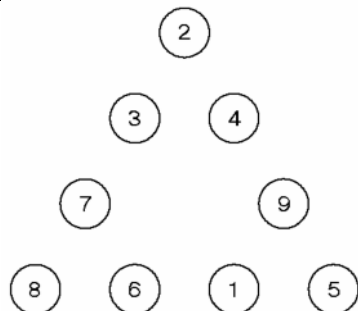
### Aufgabe 2: Eins zu viel

Hier die einzige Lösung:



Das überzählige Stück ist dunkel.

### Aufgabe 6: Magisch hoch 2



Die Dreieckseiten der anderen Lösungen enthalten jeweils die gleichen Ziffern.

### Aufgabe 7: Schlag Mitternacht

Die Position von Laurent lässt sich näherungsweise ermitteln, wenn man die angedeuteten Kreise in der Abbildung des Aufgabenblattes weiterführt. Die Kreise „Ding +5“, „Dang+10“ und „Dong+14“ schneiden sich im Rahmen der Zeichengenauigkeit in einem Punkt. Die in der nebenstehenden Abbildung eingezeichneten Hyperbeläste werden nicht erwartet.

### Aufgabe 8: Vis-à-vis

Hier die 24 Zahlen, welche die Bedingungen erfüllen:

60009 ; 60809 ; 66099 ; 66899 ; 68089 ; 68889 ; 69069 ; 69869  
80008 ; 80808 ; 86098 ; 86898 ; 88088 ; 88888 ; 89068 ; 89868  
90006 ; 90806 ; 96096 ; 96896 ; 98086 ; 98886 ; 99066 ; 99866.

### Aufgabe 3: Recycling

Bei einem Jahr mit 365 Tagen verschiebt sich der Kalender um einen Wochentag, denn es gilt  $365 = 52 \cdot 7 + 1$ . Bei einem Schaltjahr beträgt die Verschiebung ab dem 1. März zwei Wochentage. Wegen des Schaltjahrs 2008 ergibt sich für den 1. Januar 2012 eine Verschiebung um 7 Wochentage. Das Jahr 2012 ist aber im Gegensatz zu 2006 ein Schaltjahr, so dass der Kalender nicht verwendbar ist. Erst nach weiteren 5 Jahren (2 Schaltjahre), also im Jahr 2017 stimmen die Wochentage mit dem Kalender des Jahres 2006 überein.

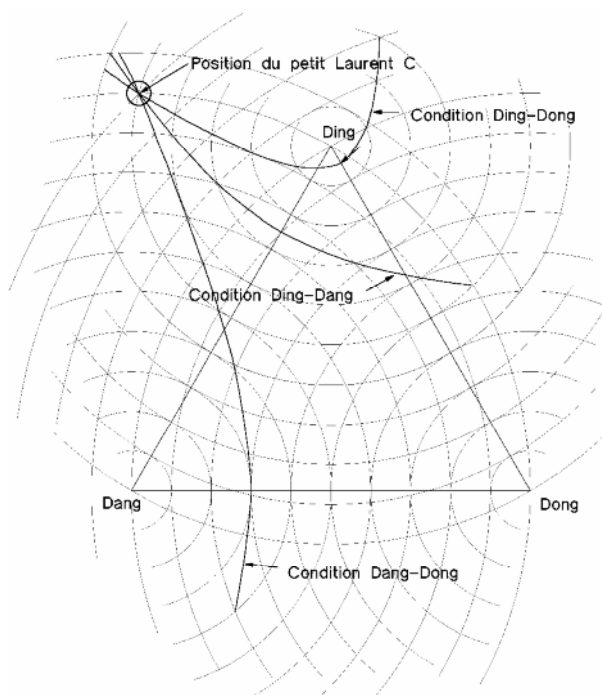
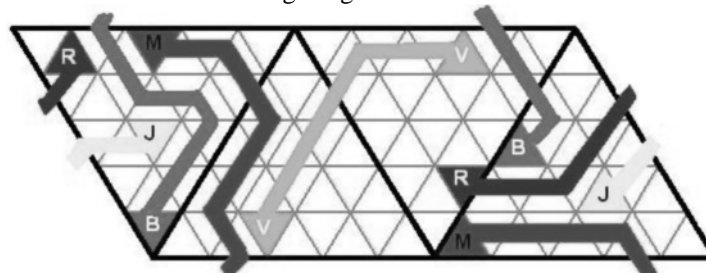
### Aufgabe 4: Neunmalklug

$$10^{2006} - 2006 = (10^{2006} - 1) - 2005 = \underbrace{9999 \dots 99999}_{2006 \text{ chiffres } 9} - 2005 = \underbrace{9999 \dots 999}_{2002 \text{ chiffres } 9} 7994.$$

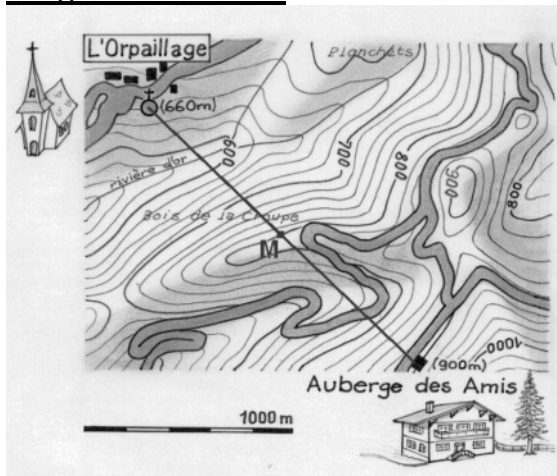
Die Quersumme ist:  $2002 \times 9 + 7 + 9 + 9 + 4 = 18\ 047$ .

### Aufgabe 5: Der Weg ist das Ziel

Eine von mehreren Lösungsmöglichkeiten:

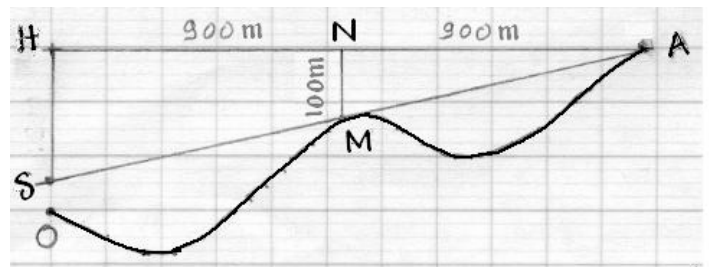


## Aufgabe 9: Ausblick

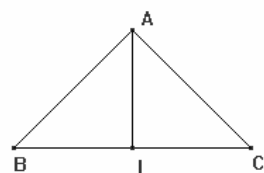


Sei A die Position des Beobachters bei der Auberger des Amis, M der Punkt der in Blickrichtung zur Kapelle auf dem Grat von La Croupe liegt und O der Fußpunkt der Kapelle. Durch senkrechte Projektion der Punkte O und M auf die Horizontale durch A erhält man die Punkte H und N. Die Sichtlinie von A über M führt zum Punkt S. Mit Hilfe der aus der Karte ersichtlichen Entfernungen und Höhenangaben erhält man über den Strahlensatz  $HS=200\text{m}$ . und damit  $OS=40\text{m}$ .

**Man könnte die Turmspitze der Kapelle also nur bei einer Turmhöhe von über 40m sehen, was allerdings unwahrscheinlich ist.**



## Aufgabe 10: Zerlegungstreu

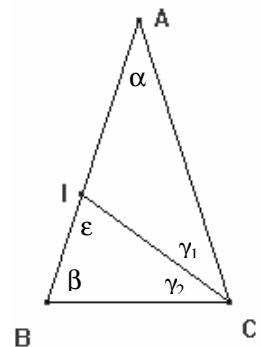


### Fall 1:

Die Winkelhalbierende halbiert den Winkel an der Spitze. Dann entstehen durch die Zerlegung zwei kongruente rechtwinklige Dreiecke. Sie sind genau dann gleichschenkelig, wenn die Weite des Basiswinkels  $45^\circ$  beträgt. Das Ausgangsdreieck ist dann ebenfalls rechtwinklig und ist leicht mit Zirkel und Lineal konstruierbar.

**Fall 2:** Die Winkelhalbierende halbiert einen Basiswinkel. Ist das Dreieck AIC gleichschenkelig, dann gilt  $\gamma_1 = \gamma_2 = \alpha$  und wegen der Gleichschenkligkeit von Dreieck ABC  $\beta = 2\alpha$ . Damit gilt  $\alpha + \beta + \gamma = 5\alpha = 180^\circ$  und damit  $\alpha = 36^\circ$  und  $\beta = 72^\circ$ . Aus  $\gamma_2 = \alpha = 36^\circ$  und  $\beta = 72^\circ$  folgt  $\epsilon = 36^\circ$ . Damit ist das Dreieck BCI ebenfalls gleichschenkelig. Dieses Dreieck und das Ausgangsdreieck ABC sind Goldene Dreiecke, die ebenfalls mit Zirkel und Lineal konstruierbar sind, was aber in der Aufgabe nicht verlangt ist.

**Weitere Fälle sind nicht möglich, es gibt also nur die beiden Arten zerlegungsgleicher Dreiecke.**



## Aufgabe 11: Quadratsummen

Sei  $n$  die Seitenlänge des mittleren Quadrats.

Dann ist der Flächeninhalt des jeweiligen Ausgangsquadrats  $(n-2)^2$ ,  $(n-1)^2$ ,  $n^2$ ,  $(n+1)^2$  und  $(n+2)^2$ .

Aus der Gleichheit der beiden großen Quadrate erhält man  $(n-2)^2 + (n-1)^2 + n^2 = (n+1)^2 + (n+2)^2$  und daraus  $n^2 - 12n = 0$ . Wegen  $n > 0$  folgt  $n = 12$ .

## Aufgabe 12: Existenzfrage

Da die Seitenlängen des Dreiecks positiv sein müssen gilt zunächst  $-0,5 < x < 12$ .

$(2+x) + (1+2x) > 12-x \Rightarrow x > 2,25$ ;  $(2+x) + (12-x) > 1+2x \Rightarrow x < 6,5$ .

$(1+2x) + (12-x) > 2+x \Rightarrow 13+x > 2+x$ . Diese Ungleichung ist allgemeingültig.

Insgesamt ergibt sich also  $2,25 < x < 6,5$ .

## Aufgabe 13: Malteserkreuz

Aus der Seitenlänge 8 des Ausgangsquadrats erhält man  $\overline{AC} = \overline{BD} = \overline{AO} = 4\sqrt{2}$ .

Damit ist  $\overline{AB} = \overline{CD} = 8 - 4\sqrt{2}$  und somit  $\overline{BC} = \overline{AD} - 2\overline{AB} = 8\sqrt{2} - 8$ .

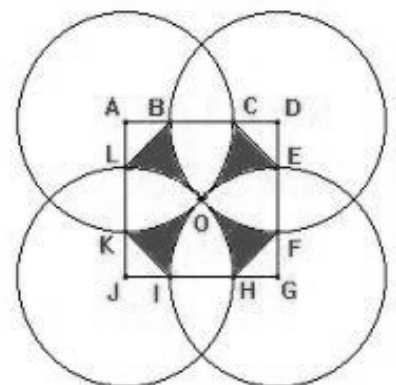
Da die Radien der vier Kreise gleich sind, folgt  $\overline{AL} = \overline{AB}$ .

Das Dreieck ALB ist damit gleichschenkelig und rechtwinklig. Es gilt also

$\overline{BL} = \sqrt{2} \cdot \overline{AB} = 8\sqrt{2} - 8 = \overline{BC}$ . Aus  $\angle ABL = 45^\circ$  folgt  $\angle LBC = 135^\circ$ .

Aus der Symmetrie der Ausgangsfigur ergibt sich die Gleichheit der anderen Seiten des Achtecks und die Gleichheit der anderen Innenwinkel.

**Das Achteck ist also regelmäßig.**



### **Aufgabe 1: Halb leer oder halb voll? 7 Punkte**

Bewertung von sprachlicher und mathematischer Qualität zu etwa gleichen Teilen.

### **Aufgabe 2: Eins zu viel, 5 Punkte**

Darstellung der Figur 3 Punkte, überzähliges Teil 2 Punkte.

Ziel ist die systematische Untersuchung der möglichen Konfigurationen aus einem Quadrat und 3 Dreiecken.

### **Aufgabe 3: Recycling, 7 Punkte**

Für die Antwort 2017 mit guter Erklärung: 7 Punkte.

**Teilpunkte:** Verschiebung um einen Tag: 1 Punkt. Verschiebung bei einem Schaltjahr: 1 Punkt.

Für die Antwort „2012“: 2 weitere Punkte.

### **Aufgabe 4: Neunmalklug, 5 Punkte**

Richtige Antwort: 3 Punkte, Begründung 2 Punkte.

### **Aufgabe 5: Der Weg ist das Ziel, 7 Punkte**

Aufzeichnen des Netzes mit dem Dreiecksraster: 1 Punkt

Bei vier richtigen Verbindungswegen und Netz 3 Punkte

Besonderes Augenmerk erfordern die Anschlussstellen am Rand des Netzes.

### **Aufgabe 6: Magisch hoch 2, 5 Punkte**

Falls nur eine der beiden Bedingungen erfüllt ist: 2 Punkte. Man achte auch auf die Darstellung.

### **Aufgabe 7: Schlag Mitternacht, 7 Punkte**

Zeichnung des gleichseitigen Dreiecks im richtigen Maßstab 1 Punkt. Das Netz der konzentrischen Kreise soll fortgesetzt und verwendet werden. Wenn der Ort von Laurent ungefähr gefunden wird, kann man zwischen 0 und 4 Punkten geben, je nach Genauigkeit des gefundenen Ortes.

2 Punkte verbleiben für das Erklären der Vorgehensweise.

### **Aufgabe 8: Vis-à-vis, 5 Punkte**

Für jeweils 8 Zahlen einen Punkt. Zwei Bonuspunkte bei vollständiger Lösung.

### **Aufgabe 9: Ausblick, 7 Punkte**

Wahl einer geeigneten Lösungsstrategie: bis 2 Punkte. Richtig begründete Antwort: 4 Punkte.

Berücksichtigung der Höhe des Glockenturms: 1 Punkt.

### **Aufgabe 10: Zerlegungstreu, 10 Punkte**

Unterscheidung der beiden Fälle: 1 Punkt

Rechtwinkliges, gleichseitiges Dreieck: 3 Punkte (Konstruktion mit Zirkel und Lineal).

Zweites Dreieck mit Winkelberechnung: 5 Punkte. Begründung der Nichtexistenz weiterer Dreiecke: 1 Punkt.

## **Klassenstufe 11:**

### **Aufgabe 11: Quadratpuzzles, 5 Punkte**

Richtig aufgestellte Gleichung: 2 Punkte. Lösen der Gleichung und richtige Antwort: 3 Punkte.  
Die Herstellung der Puzzles ist nicht verlangt. Dies wäre um vieles schwieriger.

### **Aufgabe 12: Existenzfrage, 7 Punkte**

Aufstellen der Dreiecksungleichungen: je 1 Punkt.  
Lösen des Ungleichungssystems: 3 Punkte.  
Positive Seitenlängen: 1 Punkt.

Möglicherweise wird auch versucht, die Lösung durch Probieren zu finden. Auch hier können nach Ermessen des Korrektors Teilpunkte vergeben werden.

### **Aufgabe 13: Malteserkreuz, 10 Punkte**

Umsetzung der Konstruktionsbeschreibung, Zeichnung, Färbung des Malteserkreuzes: 2 Punkte.  
Nachweis gleich langer Seiten : 5 Punkte ( Rechnung mit genauen Werten).  
Nachweis gleich großer Innenwinkel oder Mittelpunktswinkel: 3 Punkte.

Bemerkung: Man kann auch zeigen, dass das Achteck einen Umkreis besitzt. Diese Feststellung ersetzt den Nachweis gleich großer Winkel